

امتحان السداسي الثاني للسنة الثانية فنون تشكيلية

المقياس : علم المنظور

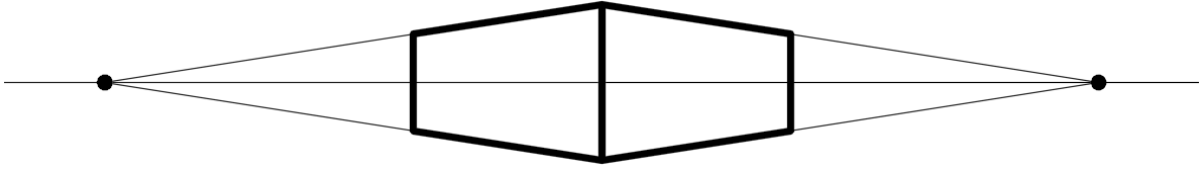
الفوج : 1 + 2

السؤال الأول: (6ن)

ما هي أنواع المنظور من حيث نقاط التلاشي ؟

السؤال الثاني: (5ن)

بين العناصر التالية في الرسم: مستوى النظر، خط الأفق، نقطة التلاشي، خط التلاشي، الشكل المنظور.

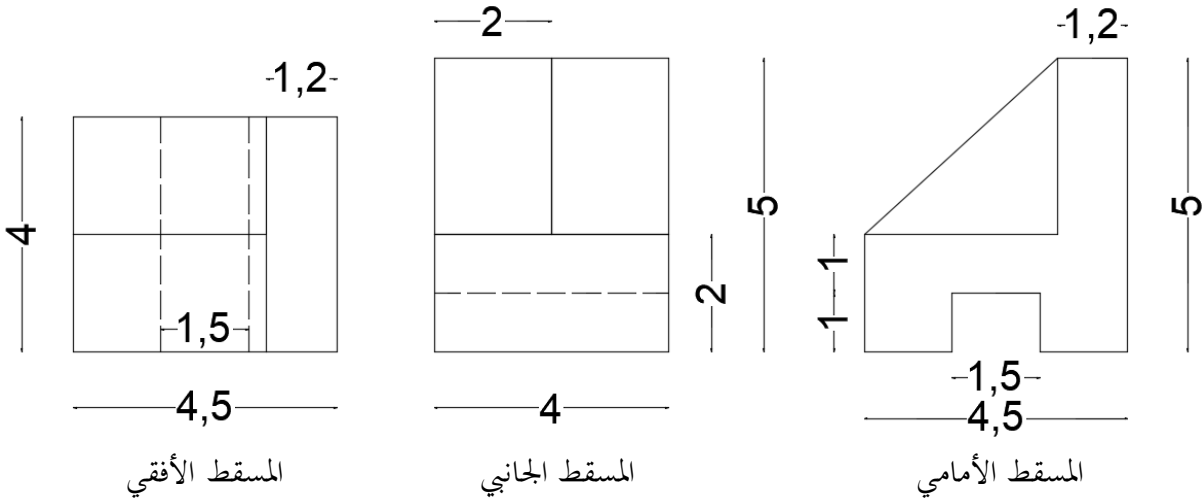


السؤال الثالث: (5.5ن)

أرسم مكعب بمنظور ذات ثلاث نقاط تلاشي.

السؤال الرابع: (3.5ن)

أرسم منظور هندسي مستعينا بالمساقط الثلاثة الموضحة.



الإجابة النموذجية

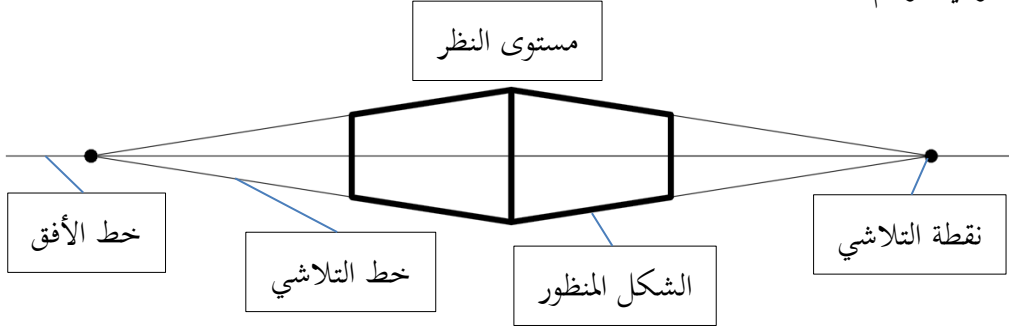
الجواب الأول: (6ن)

أنواع المنظور من حيث نقاط التلاشي:

- منظور ذو نقطة تلاشي واحدة - منظور ذو نقطتين تلاشي - منظور ذو ثلاث نقاط تلاشي.

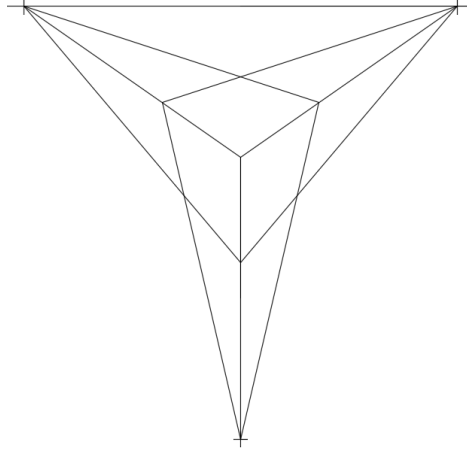
الجواب الثاني: (5ن)

تبيين العناصر في الرسم:



الجواب الثالث: (5.5ن)

رسم مكعب بمنظور ذات ثلاث نقاط تلاشي:



الجواب الرابع: (3.5ن)

رسم منظور هندسي مستعينا بالمساقط الثلاثة الموضحة:

